

## CENTRO RECLUTAMENTO GUARDIA DI FINANZA

### ISTRUZIONI PER LO SVOLGIMENTO DELLA PROVA

#### **AVVERTENZE**

- ❑ LA BUSTA CONTENENTE IL LIBRETTO TEST NON DEVE ESSERE APERTA PRIMA DELL' ORDINE DI APERTURA;
- ❑ IL LIBRETTO TEST DEVE ESSERE RESTITUITO INTEGRO al termine della prova;
- ❑ SUL “ FOGLIO RISPOSTE” sono riportate 120 caselle, numerate progressivamente da 1 a 120.
- ❑ LE RISPOSTE vanno fornite annerendo unicamente sul “ foglio risposte” uno dei quadratini della riga numericamente corrispondente alla relativa domanda del questionario dal nr. 1 al nr. 90.

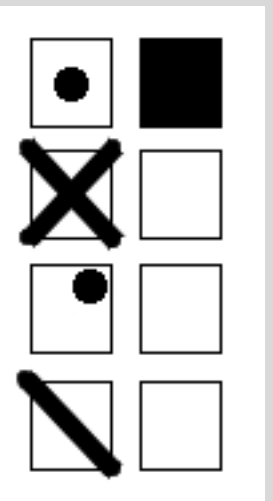
#### **Conduzione della prova**

- ❑ LEGGERE IL QUESITO SUL LIBRETTO TEST;
- ❑ FORNIRE LA RISPOSTA SULL' APPOSITO “ FOGLIO RISPOSTE” ANNERENDO IN MANIERA CORRETTA, COSI' COME RIPORTATO NELL' ESEMPIO SUCCESSIVO, CON LA PENNA NERA, IL RIQUADRO che contiene la lettera corrispondente alla risposta ritenuta esatta.

Attenzione a non uscire dal quadratino – Esempio:

#### **MODO CORRETTO DI ANNERIRE**

#### **MODO ERRATO DI ANNERIRE**












#### **NOTE:**

Tenere presente che:










- ❑ NON SONO AMMESSE CORREZIONI di alcun genere;
- ❑ IL “ FOGLIO RISPOSTE” NON DEVE ESSERE PIEGATO O ROVINATO;
- ❑ COSTITUISCE ERRORE GENERANDO PUNTEGGIO UGUALE A 0 (ZERO):
  - LA RISPOSTA SBAGLIATA;
  - LA RISPOSTA MANCANTE;
  - L' INDICAZIONE DI PIU' RISPOSTE ALLA STESSA DOMANDA.

## **AA.FF. 2025 – QUESTIONARIO TIPO 2**










## AA.FF. 2025 – QUESTIONARIO TIPO 2

	<b>1)</b> Quale tra le seguenti Regioni non è a statuto speciale, ai sensi della Costituzione?	<b>a) Sardegna</b>	<b>b) Calabria</b>	<b>c) Sicilia</b>	<b>d) Valle d'Aosta</b>
	<b>2)</b> Nell'art. 3 della Costituzione trova fondamento il principio di:	<b>a) colpevolezza</b>	<b>b) tipicità</b>	<b>c) legalità</b>	<b>d) uguaglianza</b>
	<b>3)</b> Prima di assumere le loro funzioni, il Presidente del Consiglio e i ministri giurano nelle mani del:	<b>a) Presidente del Senato</b>	<b>b) Presidente della Repubblica</b>	<b>c) Presidente del TAR di Roma</b>	<b>d) Presidente della Corte Costituzionale</b>
	<b>4)</b> Quale di questi Stati possiede il diritto di veto nel Consiglio di Sicurezza, secondo lo Statuto delle Nazioni Unite?	<b>a) Svizzera</b>	<b>b) Giappone</b>	<b>c) Italia</b>	<b>d) USA</b>
	<b>5)</b> A chi la Costituzione italiana garantisce la libertà e la segretezza della corrispondenza?	<b>a) A tutti</b>	<b>b) A nessuno</b>	<b>c) Agli stranieri</b>	<b>d) Ai minori di 12 anni</b>
	<b>6)</b> La riserva di legge di cui all'art. 13 Cost. in materia di libertà personale è:	<b>a) relativa</b>	<b>b) assoluta e rinforzata</b>	<b>c) nulla</b>	<b>d) solo assoluta</b>
	<b>7)</b> All'interno della Corte di giustizia dell'Unione europea, i giudici sono nominati congiuntamente dai governi nazionali per un mandato rinnovabile di:	<b>a) 9 anni</b>	<b>b) 3 anni</b>	<b>c) un anno</b>	<b>d) 6 anni</b>
	<b>8)</b> Quale articolo della Costituzione riconosce che il matrimonio è ordinato sull'eguaglianza morale e giuridica dei coniugi?	<b>a) L'articolo 117</b>	<b>b) L'articolo 1</b>	<b>c) L'articolo 29</b>	<b>d) L'articolo 139</b>
	<b>9)</b> Che cosa si intende comunemente con il termine "parità di genere"?	<b>a) L'uguaglianza fra individui di sesso maschile e femminile, in termini di diritti e possibilità</b>	<b>b) L'equità tra individui provenienti da Stati sviluppati e in via di sviluppo, in termini di diritti e responsabilità</b>	<b>c) La regola che stabilisce un numero equo di voti per ciascun continente all'interno dell'Assemblea Generale</b>	<b>d) La parità tra individui provenienti da Paesi sviluppati e Paesi in via di sviluppo, sia in termini di diritti che di opportunità di crescita professionale.</b>




## AA.FF. 2025 – QUESTIONARIO TIPO 2

	<b>10)</b>	In caso di scioglimento del Consiglio regionale e rimozione del Presidente della Giunta quando questi abbiano compiuto atti contrari alla Costituzione o gravi violazioni di legge, il Presidente della Repubblica ne dispone lo scioglimento e la rimozione con:	<b>a) sentenza</b>	<b>b) ordinanza</b>	<b>c) circolare</b>	<b>d) decreto motivato</b>
	<b>11)</b>	Fra i seguenti gruppi di città, quali si trovano tutte in Spagna?	<b>a) Madrid, Porto, Bilbao, Malaga, Siviglia</b>	<b>b) Saragozza, Granada, Madrid, Alicante, Tolosa</b>	<b>c) Siviglia, Malaga, Valencia, Saragozza, Granada</b>	<b>d) Valencia, Barcellona, Albufeira, Granada, Murcia</b>
	<b>12)</b>	La prima città dell'Unione Europea, per numero di abitanti, è:	<b>a) Berlino</b>	<b>b) Parigi</b>	<b>c) Londra</b>	<b>d) Roma</b>
	<b>13)</b>	Quale settore produttivo rappresenta circa un quarto dell'economia italiana?	<b>a) Il settore terziario</b>	<b>b) L'industria</b>	<b>c) L'agricoltura</b>	<b>d) L'allevamento</b>
	<b>14)</b>	Come si chiama l'altopiano centrale della Spagna che occupa una parte significativa del paese e dove sorge la capitale Madrid?	<b>a) Cordigliera Cantabrica</b>	<b>b) Meseta</b>	<b>c) Sierra Morena</b>	<b>d) Sistema centrale</b>
	<b>15)</b>	Fra le località delle dolomiti venete dedicate al turismo invernale, possiamo ricordare:	<b>a) Moena</b>	<b>b) Falcade</b>	<b>c) Ortisei</b>	<b>d) Corvara</b>
	<b>16)</b>	L'isola di Lampedusa appartiene alla provincia o area metropolitana di:	<b>a) Siracusa</b>	<b>b) Catania</b>	<b>c) Trapani</b>	<b>d) Agrigento</b>
	<b>17)</b>	La regione Trentino-Alto Adige confina a est:	<b>a) con la Lombardia</b>	<b>b) con il Friuli-Venezia Giulia</b>	<b>c) con l'Emilia-Romagna</b>	<b>d) con il Veneto</b>
	<b>18)</b>	Il Tago, uno dei principali fiumi della penisola Iberica, scorre:	<b>a) fra Spagna e Francia</b>	<b>b) internamente in territorio spagnolo</b>	<b>c) interamente in territorio portoghese</b>	<b>d) fra Spagna e Portogallo</b>

## AA.FF. 2025 – QUESTIONARIO TIPO 2

	<b>19)</b> A Porto Marghera, nella città metropolitana di Venezia, è presente un grande complesso industriale, oggi in parte dismesso, dedicato principalmente:	<b>a) all'industria del mobile</b>	<b>b) all'industria automobilistica</b>	<b>c) all'industria chimica e petrolchimica</b>	<b>d) all'industria agroalimentare</b>
	<b>20)</b> Il Golfo del Leone è una vasta insenatura del Mediterraneo che si trova:	<b>a) fra Turchia e Grecia</b>	<b>b) a nord della Libia</b>	<b>c) fra Puglia e Calabria</b>	<b>d) fra Spagna e Francia</b>
	<b>21)</b> Quale tra i seguenti paesi assunse per primo le forme di Stato socialista?	<b>a) Cina</b>	<b>b) Unione Sovietica</b>	<b>c) Jugoslavia</b>	<b>d) Cecoslovacchia</b>
	<b>22)</b> In quale città si verificò il casus belli che diede origine alla Prima guerra mondiale?	<b>a) Sarajevo</b>	<b>b) Berlino</b>	<b>c) Vienna</b>	<b>d) Parigi</b>
	<b>23)</b> L'Italia e l'Austria-Ungheria parteciparono entrambe alla Prima guerra mondiale: chi entrò per prima nel conflitto?	<b>a) Non è stato ancora appurato dagli storici</b>	<b>b) Entrarono congiuntamente</b>	<b>c) L'Italia</b>	<b>d) L'Austria-Ungheria</b>
	<b>24)</b> Nella Resistenza italiana, molte donne svolsero il ruolo di "staffette": cosa comportava questo compito?	<b>a) Mediavano, pur se con difficoltà, tra fascisti e antifascisti</b>	<b>b) Combattevano in unità di piccole dimensioni dette Gap</b>	<b>c) Partecipavano ai comitati corporativi e riferivano alla popolazione</b>	<b>d) Tenevano i collegamenti tra le varie unità combattenti, recapitavano messaggi e svolgevano altri servizi logistici</b>
	<b>25)</b> In che anno nacque il cosiddetto Regime di Vichy?	<b>a) 1961</b>	<b>b) 1940</b>	<b>c) 1945</b>	<b>d) 1922</b>
	<b>26)</b> Sul finire degli anni cinquanta, in coincidenza con lo sviluppo economico del paese, il Partito socialista italiano (Psi) inaugurò una fase poi definita "autonomista": quale delle seguenti novità inerenti ai suaccennati fatti è fasulla?	<b>a) Il Psi accettò completamente e definitivamente le istituzioni liberal-democratiche</b>	<b>b) Il Psi si disse disposto a collaborare con i cattolici e con i moderati ad una politica di riforme</b>	<b>c) Il Psi abbandonò le velleità rivoluzionarie</b>	<b>d) Il Psi rafforzò i propri legami con l'Unione Sovietica, facendo della pianificazione quinquennale una propria bandiera</b>
	<b>27)</b> Quale dei seguenti paesi occupati dal Terzo Reich durante la Seconda guerra mondiale fu sottoposto a un cruento tentativo di "germanizzazione"?	<b>a) Svizzera</b>	<b>b) Armenia</b>	<b>c) Egitto</b>	<b>d) Polonia</b>










## AA.FF. 2025 – QUESTIONARIO TIPO 2

	<b>28)</b>	In quale località toscana si ebbe un grave eccidio nazifascista a danno della popolazione civile?	<b>a) Castiglione del Lago</b>	<b>b) Castel Sant'Elia</b>	<b>c) Monterosso al Mare</b>	<b>d) Sant'Anna di Stazzema</b>
	<b>29)</b>	Come morì Gandhi?	<b>a) Si suicidò per protesta contro il colonialismo inglese</b>	<b>b) Fu assassinato da un fondamentalista indù</b>	<b>c) Annegato durante un'alluvione di straordinaria portata</b>	<b>d) Di vecchiaia, nel letto della sua abitazione</b>
	<b>30)</b>	Nel 1983, quale paese fu definito dal presidente statunitense Ronald Reagan un "impero del male"?	<b>a) Unione Sovietica</b>	<b>b) Cina</b>	<b>c) Cuba</b>	<b>d) Corea del Nord</b>
	<b>31)</b>	Quale delle seguenti parole è un contrario di "forte"?	<b>a) Magro</b>	<b>b) Resistente</b>	<b>c) Piccolo</b>	<b>d) Fragile</b>
	<b>32)</b>	I termini seguenti sono tutti sinonimi del verbo "circuire" tranne uno. Quale?	<b>a) Imbrogliare</b>	<b>b) Circondare</b>	<b>c) Plagiare</b>	<b>d) Raggirare</b>
	<b>33)</b>	I termini seguenti sono tutti sinonimi del sostantivo "tracotanza" tranne uno. Quale?	<b>a) Superbia</b>	<b>b) Sfrontatezza</b>	<b>c) Arroganza</b>	<b>d) Stoltezza</b>
	<b>34)</b>	Indicare qual è la parola esatta da aggiungere alla frase: "Questo meccanismo non funziona più, è davvero ..."	<b>a) Obsoleto</b>	<b>b) Incredulo</b>	<b>c) Irredento</b>	<b>d) Ininterrotto</b>
	<b>35)</b>	Qual è il significato di "ferale"?	<b>a) Selvaggio</b>	<b>b) Non festivo</b>	<b>c) Luttuoso</b>	<b>d) Serale</b>
	<b>36)</b>	Quale delle seguenti frasi contiene una metafora?	<b>a) La vita è un percorso ricco di ostacoli e piacevoli sorprese</b>	<b>b) Era freddo come il ghiaccio</b>	<b>c) Il fiume scorreva tra le rocce</b>	<b>d) Il vento ululava come un lupo</b>
	<b>37)</b>	Individua la preposizione fra i termini elencati:	<b>a) senza</b>	<b>b) fragile</b>	<b>c) su</b>	<b>d) aviatore</b>

## AA.FF. 2025 – QUESTIONARIO TIPO 2






	<b>38)</b>	Che tipo di aggettivi sono "questo", "codesto" e "quello"?	<b>a) Dimostrativi</b>	<b>b) Indefiniti</b>	<b>c) Numerali</b>	<b>d) Esclamativi</b>
	<b>39)</b>	Tra le frasi che seguono, quale presenta una grave scorrettezza nel graduare l'aggettivo?	<b>a) Tu sei più peggiore di me</b>	<b>b) Sono il fratello maggiore</b>	<b>c) Ho voti ottimi</b>	<b>d) Lui è migliore di te</b>
	<b>40)</b>	In quale delle seguenti frasi il verbo è usato intransitivamente?	<b>a) Mamma cucina con piacere.</b>	<b>b) Mamma cucina l'arrosto.</b>	<b>c) Mamma cucina tutto bene.</b>	<b>d) Mamma cucina raramente i fritti.</b>
	<b>41)</b>	Nella frase passiva "Io ero stato interrogato" indica il tempo del verbo:	<b>a) Imperfetto</b>	<b>b) Futuro anteriore</b>	<b>c) Trapassato prossimo</b>	<b>d) Passato prossimo</b>
	<b>42)</b>	Nella frase passiva "Tu saresti stato invitato" indica il modo e il tempo del verbo:	<b>a) Condizionale presente</b>	<b>b) Indicativo futuro anteriore</b>	<b>c) Condizionale passato</b>	<b>d) Congiuntivo imperfetto</b>
	<b>43)</b>	Quale delle seguenti parole non è divisa in sillabe correttamente?	<b>a) At-tra-zio-ne</b>	<b>b) De-ci-si-o-ne</b>	<b>c) At-ten-zio-ne</b>	<b>d) Di-vi-sio-ne</b>
	<b>44)</b>	Quale termine è ortograficamente corretto?	<b>a) Gogniometro</b>	<b>b) Goniometro</b>	<b>c) Gonniometro</b>	<b>d) Gognometro</b>
	<b>45)</b>	Quale delle seguenti parole non è divisa in sillabe correttamente?	<b>a) Ac-qui-tri-no</b>	<b>b) Ac-cen-sio-ne</b>	<b>c) Tri-ta-ghi-ac-cio</b>	<b>d) E-str-po-la-re</b>
	<b>46)</b>	Quale termine non è ortograficamente corretto?	<b>a) Adaggio</b>	<b>b) Pregio</b>	<b>c) Malvagio</b>	<b>d) Miraggio</b>

## AA.FF. 2025 – QUESTIONARIO TIPO 2











	<b>47)</b>	Quale delle seguenti frasi non contiene errori di punteggiatura?	<b>a) Soprannominata la Grande Mela, New York, cosmopolita per eccellenza resta una delle mete turistiche più desiderate del mondo, un set che non smette mai di ispirare scrittori e registi</b>	<b>b) Soprannominata la Grande Mela, New York, cosmopolita per eccellenza, resta una delle mete turistiche più desiderate del mondo, un set che non smette mai di ispirare, scrittori e registi</b>	<b>c) Soprannominata la Grande Mela, New York, cosmopolita per eccellenza, resta una delle mete turistiche più desiderate del mondo, un set che non smette mai di ispirare scrittori e registi</b>	<b>d) Soprannominata la Grande Mela, New York cosmopolita per eccellenza, resta una delle mete turistiche più desiderate del mondo, un set che non smette mai di ispirare scrittori e registi</b>
	<b>48)</b>	Quale termine non è ortograficamente corretto?	<b>a) Idolattria</b>	<b>b) Fisiatria</b>	<b>c) Paleontologo</b>	<b>d) Miglio</b>
	<b>49)</b>	Nella frase "Abbiamo visitato il museo durante le vacanze", "abbiamo visitato" è:	<b>a) il predicato nominale</b>	<b>b) il soggetto</b>	<b>c) il complemento oggetto</b>	<b>d) il predicato verbale</b>
	<b>50)</b>	Individua l'affermazione non corretta riguardo la "relativa propria":	<b>a) È collegata alla reggente da un pronome o avverbio relativo</b>	<b>b) Può essere espressa anche dal participio presente o passato</b>	<b>c) Esprime concetti condizionati da fatti particolari o contingenti</b>	<b>d) A volte, se implicita, è espressa con l'infinito preceduto dalla preposizione "da"</b>
	<b>51)</b>	La subordinata presente nell'espressione "L'ho zittito perché diceva sciocchezze" è:	<b>a) Una dichiarativa</b>	<b>b) Una finale</b>	<b>c) Una causale</b>	<b>d) Una modale</b>
	<b>52)</b>	Una delle seguenti asserzioni è falsa: quale?	<b>a) Le frasi implicite non possono reggersi da sole</b>	<b>b) La frase implicita si appoggia ad un'altra da cui dipende</b>	<b>c) Una frase implicita può trasformarsi in esplicita</b>	<b>d) Una frase implicita ha solo valore temporale</b>
	<b>53)</b>	In quale frase non è presente un complemento di causa?	<b>a) Partì per il Venezuela</b>	<b>b) Per la paura scappai</b>	<b>c) Tremava per il freddo</b>	<b>d) Per colpa tua ho perso</b>
	<b>54)</b>	Nella frase "Il pittore i cui quadri mi piacciono è Picasso" "cui" è complemento di:	<b>a) Termine</b>	<b>b) Mezzo</b>	<b>c) Specificazione</b>	<b>d) Causa</b>
	<b>55)</b>	Quale tra le seguenti frasi trasforma in modo corretto e senza alterazioni la frase "Il vento scuote gli alberi" da attiva in passiva?	<b>a) Gli alberi scuotono il vento</b>	<b>b) Gli alberi sono scossi dal vento</b>	<b>c) Gli alberi sono stati scossi dal vento</b>	<b>d) Gli alberi si scuotono con il vento</b>





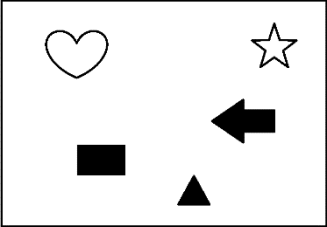

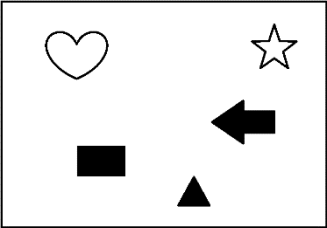

## AA.FF. 2025 – QUESTIONARIO TIPO 2

	<div>56)</div> <div>In relazione ai dati della tabella n. 44 indicare in che anno la vettura 3 ha percorso più chilometri.</div> <div>Tabella 44 - Chilometri percorsi da 4 diverse vetture, dal 2000 al 2003.</div> <table><tr><td></td><td>2000</td><td>2001</td><td>2002</td><td>2003</td></tr><tr><td>Vettura 1</td><td>1000</td><td>2000</td><td>1500</td><td>500</td></tr><tr><td>Vettura 2</td><td>1000</td><td>1500</td><td>2000</td><td>1500</td></tr><tr><td>Vettura 3</td><td>1200</td><td>1400</td><td>1200</td><td>1600</td></tr><tr><td>Vettura 4</td><td>1100</td><td>1100</td><td>1000</td><td>1300</td></tr></table>		2000	2001	2002	2003	Vettura 1	1000	2000	1500	500	Vettura 2	1000	1500	2000	1500	Vettura 3	1200	1400	1200	1600	Vettura 4	1100	1100	1000	1300	a) 2002	b) 2000	c) 2001	d) 2003
	2000	2001	2002	2003																										
Vettura 1	1000	2000	1500	500																										
Vettura 2	1000	1500	2000	1500																										
Vettura 3	1200	1400	1200	1600																										
Vettura 4	1100	1100	1000	1300																										
	<div>57)</div> <div>In un torneo di calcetto, ogni partita vinta vale 3 punti, ogni partita pareggiata vale 2 punti e ogni partita persa vale 0 punti. Delle 30 partite del torneo, la squadra A ne ha vinte 16, ne ha pareggiate 8 e ha perso le restanti. Quale punteggio ha conseguito la squadra A al termine del torneo?</div>	a) 61	b) 62	c) 63	d) 64																									
	<div>58)</div> <div>In relazione ai dati della tabella n. 37 indicare la variazione percentuale fra la spesa media (espressa in €) relativa ai colori a olio per il mese di Gennaio e la spesa media relativa ai colori a olio per il mese di Aprile.</div> <div>Tabella 37 - Spesa media (espressa in €) per diversi clienti del negozio di colori "Color Life", dal mese di Gennaio al mese di Aprile.</div> <table><tr><td></td><td>Gennaio</td><td>Febbraio</td><td>Marzo</td><td>Aprile</td></tr><tr><td>Colori a tempera</td><td>25</td><td>40</td><td>50</td><td>75</td></tr><tr><td>Colori a olio</td><td>40</td><td>60</td><td>80</td><td>120</td></tr><tr><td>Colori ad acquerello</td><td>25</td><td>50</td><td>40</td><td>30</td></tr><tr><td>Colori acrilici</td><td>30</td><td>35</td><td>30</td><td>35</td></tr></table>		Gennaio	Febbraio	Marzo	Aprile	Colori a tempera	25	40	50	75	Colori a olio	40	60	80	120	Colori ad acquerello	25	50	40	30	Colori acrilici	30	35	30	35	a) +100%	b) +300%	c) +400%	d) +200%
	Gennaio	Febbraio	Marzo	Aprile																										
Colori a tempera	25	40	50	75																										
Colori a olio	40	60	80	120																										
Colori ad acquerello	25	50	40	30																										
Colori acrilici	30	35	30	35																										
	<div>59)</div> <div>In relazione ai dati della tabella n. 9 indicare la media dei valori relativi al numero di lenti a contatto vendute.</div> <div>Tabella 9 - Articoli venduti dall'ottico "Two Eyes" da Gennaio ad Aprile.</div> <table><tr><td></td><td>Gennaio</td><td>Febbraio</td><td>Marzo</td><td>Aprile</td></tr><tr><td>Occhiali da vista</td><td>20</td><td>30</td><td>15</td><td>40</td></tr><tr><td>Occhiali da sole</td><td>15</td><td>30</td><td>45</td><td>10</td></tr><tr><td>Occhiali vintage</td><td>25</td><td>35</td><td>40</td><td>15</td></tr><tr><td>Lenti a contatto</td><td>40</td><td>20</td><td>30</td><td>40</td></tr></table>		Gennaio	Febbraio	Marzo	Aprile	Occhiali da vista	20	30	15	40	Occhiali da sole	15	30	45	10	Occhiali vintage	25	35	40	15	Lenti a contatto	40	20	30	40	a) 32,5	b) 25,5	c) 37,5	d) 40,5
	Gennaio	Febbraio	Marzo	Aprile																										
Occhiali da vista	20	30	15	40																										
Occhiali da sole	15	30	45	10																										
Occhiali vintage	25	35	40	15																										
Lenti a contatto	40	20	30	40																										
	<div>60)</div> <div>In relazione ai dati della tabella n. 28 indicare quanti guanti sono stati venduti in totale nella prima settimana.</div> <div>Tabella 28 - Guanti venduti dal negozio di articoli da lavoro "Glove Job", nelle quattro settimane del mese di Gennaio.</div> <table><tr><td></td><td>1° settimana</td><td>2° settimana</td><td>3° settimana</td><td>4° settimana</td></tr><tr><td>Guanti da saldatore</td><td>20</td><td>30</td><td>35</td><td>15</td></tr><tr><td>Guanti da giardinaggio</td><td>5</td><td>15</td><td>30</td><td>20</td></tr><tr><td>Guanti antitaglio</td><td>15</td><td>15</td><td>20</td><td>25</td></tr><tr><td>Guanti anticalore</td><td>5</td><td>10</td><td>5</td><td>5</td></tr></table>		1° settimana	2° settimana	3° settimana	4° settimana	Guanti da saldatore	20	30	35	15	Guanti da giardinaggio	5	15	30	20	Guanti antitaglio	15	15	20	25	Guanti anticalore	5	10	5	5	a) 55	b) 45	c) 40	d) 50
	1° settimana	2° settimana	3° settimana	4° settimana																										
Guanti da saldatore	20	30	35	15																										
Guanti da giardinaggio	5	15	30	20																										
Guanti antitaglio	15	15	20	25																										
Guanti anticalore	5	10	5	5																										


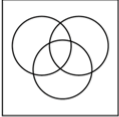

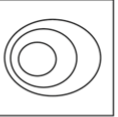
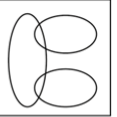

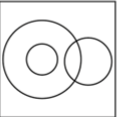
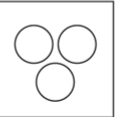





## AA.FF. 2025 – QUESTIONARIO TIPO 2

	<b>61)</b>	<p>In relazione ai dati della tabella n. 2 indicare la variazione percentuale fra i cacciaviti a taglio prodotti nel 2000 e i cacciaviti a taglio prodotti nel 2003.</p> <p><small>Tabella 2 - Cacciaviti prodotti (in migliaia), dal 2000 al 2003, dall'azienda "Rotax".</small></p> <table border="1" style="width: 100%; border-collapse: collapse; font-size: 0.8em;"> <tr> <th></th> <th>2000</th> <th>2001</th> <th>2002</th> <th>2003</th> </tr> <tr> <td>Cacciaviti a stella</td> <td>90</td> <td>110</td> <td>120</td> <td>80</td> </tr> <tr> <td>Cacciaviti a taglio</td> <td>80</td> <td>90</td> <td>70</td> <td>100</td> </tr> <tr> <td>Cacciaviti a brugola esagonale</td> <td>35</td> <td>50</td> <td>45</td> <td>30</td> </tr> <tr> <td>Cacciaviti Torx</td> <td>10</td> <td>15</td> <td>20</td> <td>5</td> </tr> </table>		2000	2001	2002	2003	Cacciaviti a stella	90	110	120	80	Cacciaviti a taglio	80	90	70	100	Cacciaviti a brugola esagonale	35	50	45	30	Cacciaviti Torx	10	15	20	5	<b>a) +50%</b>	<b>b) Circa -25%</b>	<b>c) +25%</b>	<b>d) +100%</b>
	2000	2001	2002	2003																											
Cacciaviti a stella	90	110	120	80																											
Cacciaviti a taglio	80	90	70	100																											
Cacciaviti a brugola esagonale	35	50	45	30																											
Cacciaviti Torx	10	15	20	5																											
	<b>62)</b>	<p>In relazione ai dati della tabella n. 21 indicare la media dei valori relativi allo stipendio (indicato in €) degli operai di 1° livello.</p> <p><small>Tabella 21 - Stipendi mensili (indicati in €) per diverse figure professionali dell'azienda "AutoFill", dal 1995 al 2010.</small></p> <table border="1" style="width: 100%; border-collapse: collapse; font-size: 0.8em;"> <tr> <th></th> <th>1995</th> <th>2000</th> <th>2005</th> <th>2010</th> </tr> <tr> <td>Operai di 1° livello</td> <td>1000</td> <td>1200</td> <td>1300</td> <td>1250</td> </tr> <tr> <td>Operai di 2° livello</td> <td>1250</td> <td>1500</td> <td>1300</td> <td>1750</td> </tr> <tr> <td>Impiegati</td> <td>1500</td> <td>1400</td> <td>1400</td> <td>1600</td> </tr> <tr> <td>Dirigenti</td> <td>3000</td> <td>3500</td> <td>3500</td> <td>3400</td> </tr> </table>		1995	2000	2005	2010	Operai di 1° livello	1000	1200	1300	1250	Operai di 2° livello	1250	1500	1300	1750	Impiegati	1500	1400	1400	1600	Dirigenti	3000	3500	3500	3400	<b>a) 1187,5</b>	<b>b) 1487,5</b>	<b>c) 1000,5</b>	<b>d) 1380,5</b>
	1995	2000	2005	2010																											
Operai di 1° livello	1000	1200	1300	1250																											
Operai di 2° livello	1250	1500	1300	1750																											
Impiegati	1500	1400	1400	1600																											
Dirigenti	3000	3500	3500	3400																											
	<b>63)</b>	<p>In relazione ai dati della tabella n. 20 indicare la somma dei prezzi di listino dell'anno 2018.</p> <p><small>Tabella 20 - Listino prezzi (indicati in €) del mobilificio "Legno Casa", dall'anno 2017 all'anno 2020.</small></p> <table border="1" style="width: 100%; border-collapse: collapse; font-size: 0.8em;"> <tr> <th></th> <th>2017</th> <th>2018</th> <th>2019</th> <th>2020</th> </tr> <tr> <td>Scrivania</td> <td>200</td> <td>250</td> <td>300</td> <td>400</td> </tr> <tr> <td>Armadio a due ante</td> <td>500</td> <td>550</td> <td>700</td> <td>850</td> </tr> <tr> <td>Armadio a quattro ante</td> <td>600</td> <td>500</td> <td>750</td> <td>800</td> </tr> <tr> <td>Comodino</td> <td>150</td> <td>200</td> <td>250</td> <td>150</td> </tr> </table>		2017	2018	2019	2020	Scrivania	200	250	300	400	Armadio a due ante	500	550	700	850	Armadio a quattro ante	600	500	750	800	Comodino	150	200	250	150	<b>a) 1600</b>	<b>b) 1500</b>	<b>c) 1300</b>	<b>d) 1400</b>
	2017	2018	2019	2020																											
Scrivania	200	250	300	400																											
Armadio a due ante	500	550	700	850																											
Armadio a quattro ante	600	500	750	800																											
Comodino	150	200	250	150																											
	<b>64)</b>	<p>In relazione ai dati della tabella n. 7 indicare quanti fiori sono stati venduti in totale nel mese di Giugno.</p> <p><small>Tabella 7 - Tipologie di fiori venduti da un fioraio olandese, dal mese di Maggio al mese di Agosto.</small></p> <table border="1" style="width: 100%; border-collapse: collapse; font-size: 0.8em;"> <tr> <th></th> <th>Maggio</th> <th>Giugno</th> <th>Luglio</th> <th>Agosto</th> </tr> <tr> <td>Tulipani</td> <td>50</td> <td>55</td> <td>70</td> <td>60</td> </tr> <tr> <td>Narcisi</td> <td>45</td> <td>55</td> <td>35</td> <td>20</td> </tr> <tr> <td>Crocchi</td> <td>80</td> <td>85</td> <td>60</td> <td>55</td> </tr> <tr> <td>Giacinti</td> <td>25</td> <td>30</td> <td>20</td> <td>45</td> </tr> </table>		Maggio	Giugno	Luglio	Agosto	Tulipani	50	55	70	60	Narcisi	45	55	35	20	Crocchi	80	85	60	55	Giacinti	25	30	20	45	<b>a) 225</b>	<b>b) 180</b>	<b>c) 170</b>	<b>d) 200</b>
	Maggio	Giugno	Luglio	Agosto																											
Tulipani	50	55	70	60																											
Narcisi	45	55	35	20																											
Crocchi	80	85	60	55																											
Giacinti	25	30	20	45																											
	<b>65)</b>	<p>Osservando l'immagine, individuare tra le alternative quella che ne costituisce la doppia rotazione in senso orario di 90 gradi.</p> <div style="text-align: center;">  </div>	<b>a)</b> 	<b>b)</b> 	<b>c)</b> 	<b>d)</b> 																									



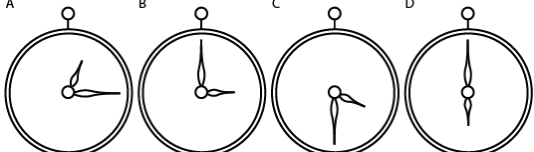

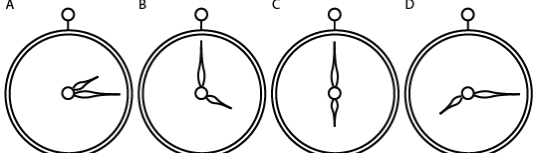

## AA.FF. 2025 – QUESTIONARIO TIPO 2

	<b>66)</b>	Individuare tra le alternative l'anagramma di VILE.	<b>a) VELO</b>	<b>b) LIEVE</b>	<b>c) VELI</b>	<b>d) LEVE</b>
	<b>67)</b>	<p>Osservando l'immagine, indicare quale delle seguenti affermazioni non è corretta.</p> 	<b>a) Il triangolo è sotto la freccia</b>	<b>b) La stella è a destra del cuore</b>	<b>c) La freccia è sotto la stella</b>	<b>d) Il triangolo è sopra il rettangolo</b>
	<b>68)</b>	<p>Osservando l'immagine, indicare quale delle seguenti affermazioni è corretta.</p> 	<b>a) La stella è bianca ed è sotto la freccia</b>	<b>b) Il cuore è bianco ed è sotto il triangolo</b>	<b>c) La freccia è nera ed è orientata verso destra</b>	<b>d) Il triangolo è nero ed è sotto la freccia</b>
	<b>69)</b>	Un'urna contiene delle biglie bianche, delle biglie blu e delle biglie verdi. Le biglie bianche sono 44. Le biglie blu sono il 50% in più rispetto a quelle bianche e il 50% in meno rispetto a quelle verdi. Quante biglie sono contenute nell'urna?	<b>a) 242</b>	<b>b) 243</b>	<b>c) 240</b>	<b>d) 241</b>

## AA.FF. 2025 – QUESTIONARIO TIPO 2

	<p><b>70)</b> Indicare quale dei diagrammi presenti nell'immagine raffigura la relazione tra i seguenti insiemi: numeri naturali di almeno 7 cifre, numeri naturali di meno di 5 cifre, numeri naturali di 5 cifre.</p> <div style="display: flex; flex-wrap: wrap; justify-content: space-around;"> <div style="text-align: center;">  Diagramma 1         </div> <div style="text-align: center;">  Diagramma 2         </div> <div style="text-align: center;">  Diagramma 3         </div> <div style="text-align: center;">  Diagramma 4         </div> <div style="text-align: center;">  Diagramma 5         </div> <div style="text-align: center;">  Diagramma 6         </div> <div style="text-align: center;">  Diagramma 7         </div> </div>	<p><b>a) Diagramma 7</b></p>	<p><b>b) Diagramma 2</b></p>	<p><b>c) Diagramma 5</b></p>	<p><b>d) Diagramma 6</b></p>
	<p><b>71)</b> Individuare tra le alternative l'anagramma di SETOLE.</p>	<p><b>a) CESOIE</b></p>	<p><b>b) TESOIE</b></p>	<p><b>c) TESOIE</b></p>	<p><b>d) TETTOIE</b></p>
	<p><b>72)</b> Un'urna contiene delle biglie bianche, delle biglie blu e delle biglie verdi. Le biglie bianche sono 46. Le biglie blu sono il 50% in più rispetto a quelle bianche e il 50% in meno rispetto a quelle verdi. Quante biglie sono contenute nell'urna?</p>	<p><b>a) 253</b></p>	<p><b>b) 252</b></p>	<p><b>c) 254</b></p>	<p><b>d) 255</b></p>
	<p><b>73)</b> Si supponga di disporre i numeri naturali da 1 a 100 in ordine crescente su di un segmento, in modo che la distanza tra ciascun numero e quello successivo sia sempre la stessa. Quale dei seguenti numeri è equidistante da 5 e da 43?</p>	<p><b>a) 25</b></p>	<p><b>b) 24</b></p>	<p><b>c) 23</b></p>	<p><b>d) 22</b></p>
	<p><b>74)</b> Quanti pannelli di fissata larghezza occorrono per recintare un campo quadrato se per recintare tre lati del campo ne occorrono 15?</p>	<p><b>a) 15</b></p>	<p><b>b) 30</b></p>	<p><b>c) 20</b></p>	<p><b>d) 25</b></p>
	<p><b>75)</b> Andrea, Biagio e Carlo sono al cinema, dove le file delle sedute sono numerate progressivamente, a partire da quella più vicina allo schermo, da 1 a 50. Andrea è seduto nella fila 13. Biagio è seduto 5 file avanti rispetto ad Andrea. Carlo è seduto 7 file indietro rispetto a Biagio. In quale fila è seduto Carlo?</p>	<p><b>a) 1</b></p>	<p><b>b) 11</b></p>	<p><b>c) 15</b></p>	<p><b>d) 20</b></p>

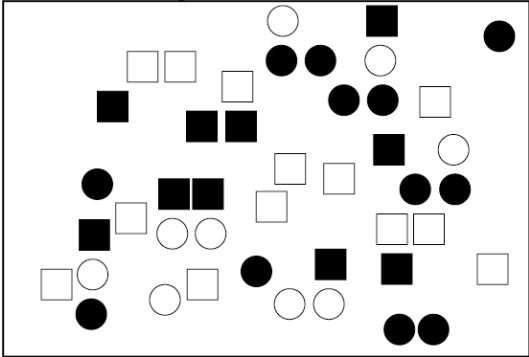
## AA.FF. 2025 – QUESTIONARIO TIPO 2

	<p><b>76)</b> Anna, Beatrice, Claudia e Dalila sono a teatro, dove le file delle sedute sono numerate progressivamente, a partire da quella più vicina al palco, da 1 a 100. Anna è seduta nella fila 30. Beatrice è seduta 19 file indietro rispetto ad Anna. Claudia è seduta 31 file avanti rispetto a Beatrice. Dalila è seduta 13 file avanti rispetto a Claudia. In quale fila è seduta Dalila?</p>	<p><b>a) 49</b></p>	<p><b>b) 45</b></p>	<p><b>c) 5</b></p>	<p><b>d) 18</b></p>
	<p><b>77)</b> Gli orologi di seguito rappresentati indicano orari precisi a intervalli di 15 minuti e la lancetta delle ore avanza solo allo scoccare dell'ora esatta; pertanto, in relazione alla figura, quale delle seguenti affermazioni è corretta?</p> <div style="display: flex; justify-content: space-around; align-items: flex-start;"> <span>A</span><span>B</span><span>C</span><span>D</span> </div> 	<p><b>a) L'orologio B indica le 4:30.</b></p>	<p><b>b) L'orologio A indica le 2:00.</b></p>	<p><b>c) L'orologio D indica le 6:00.</b></p>	<p><b>d) L'orologio B indica le 3:30.</b></p>
	<p><b>78)</b> Gli orologi di seguito rappresentati indicano orari precisi a intervalli di 15 minuti e la lancetta delle ore avanza solo allo scoccare dell'ora esatta; pertanto, in relazione alla figura, quale delle seguenti affermazioni non è corretta?</p> <div style="display: flex; justify-content: space-around; align-items: flex-start;"> <span>A</span><span>B</span><span>C</span><span>D</span> </div> 	<p><b>a) L'orologio D è 6 ore avanti rispetto all'orologio A.</b></p>	<p><b>b) L'orologio C è 2 ore avanti rispetto all'orologio B.</b></p>	<p><b>c) L'orologio D è 2 ore avanti rispetto all'orologio C.</b></p>	<p><b>d) L'orologio D è 4 ore e 15 minuti avanti rispetto all'orologio B.</b></p>
	<p><b>79)</b> Devo disporre 150 libri dello spessore di 4 cm ciascuno, uno di fianco all'altro, lungo delle mensole di lunghezza 90 cm ciascuna. Qual è il numero minimo di mensole di cui avrò bisogno per sistemare tutti i libri?</p>	<p><b>a) 7</b></p>	<p><b>b) 8</b></p>	<p><b>c) 9</b></p>	<p><b>d) 6</b></p>

AA.FF. 2025 – QUESTIONARIO TIPO 2



80) In relazione alla figura, indicare la cifra ottenuta dalla somma di quadrati bianchi e cerchi bianchi.



a) 24

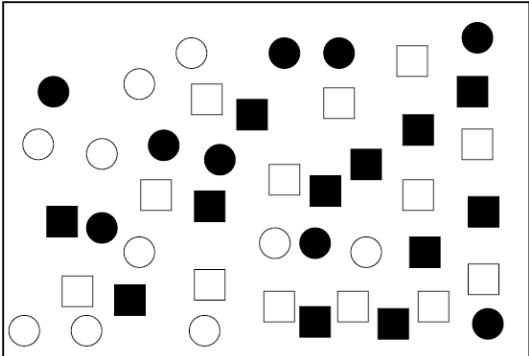
b) 25

c) 22

d) 20



81) In relazione alla figura, indicare quanti sono in tutto i cerchi.



a) 18

b) 17

c) 21

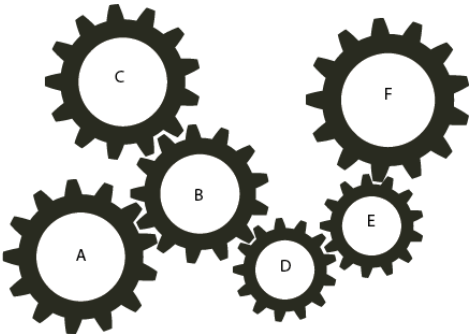
d) 19

# AA.FF. 2025 – QUESTIONARIO TIPO 2



82)

Nel seguente sistema le ruote dentate sono libere di ruotare attorno a un perno fisso, e la ruota dentata A gira in senso orario. Dunque, in relazione alla figura quale delle seguenti affermazioni è corretta?



a) La ruota B gira in senso antiorario.

b) La ruota B gira in senso orario.

c) La ruota D gira in senso antiorario.

d) La ruota F gira in senso antiorario.



83)

Completa correttamente il seguente schema numerico:

4	1	3	2	5	6
6	2	5	1	3	4
1	3		5	4	2
2	5		6	1	3
3	6	1	4	2	5
5	4		3	6	1

a)

		6
		4
		2

b)

		1
		4
		2






c)

		6
		4
		3

d)





		6
		5
		2

## AA.FF. 2025 – QUESTIONARIO TIPO 2

	<b>84)</b>	<p>Nel seguente sistema le ruote dentate sono libere di ruotare attorno a un perno fisso, e la ruota dentata A gira in senso orario. Dunque, in relazione alla figura quale delle seguenti affermazioni è corretta?</p> 	<b>a) La ruota D gira in senso orario.</b>	<b>b) La ruota B gira in senso opposto rispetto alla ruota F.</b>	<b>c) La ruota B gira in senso opposto rispetto alla ruota C.</b>	<b>d) La ruota D gira in senso antiorario.</b>
	<b>85)</b>	<p>Calcolare x, y e z sapendo che: x è il quadruplo di y; y è la metà di z; la somma di x e z è uguale a 30.</p>	<b>a) <math>x = 15</math>, <math>y = 5</math>, <math>z = 10</math></b>	<b>b) <math>x = 18</math>, <math>y = 6</math>, <math>z = 12</math></b>	<b>c) <math>x = 20</math>, <math>y = 5</math>, <math>z = 10</math></b>	<b>d) <math>x = 24</math>, <math>y = 6</math>, <math>z = 12</math></b>
	<b>86)</b>	<p>Nell'immagine sottostante, ogni poligono vale quanto il numero di lati che ha, moltiplicato per 7. Quanto si ottiene moltiplicando il terzo poligono da sinistra con il quinto?</p> 	<b>a) 1715</b>	<b>b) 1711</b>	<b>c) 1713</b>	<b>d) 1717</b>



## AA.FF. 2025 – QUESTIONARIO TIPO 2

	<p><b>87)</b> Nel seguente sistema le ruote dentate sono libere di ruotare attorno a un perno fisso, e la ruota dentata A gira in senso orario. Dunque, in relazione alla figura quale delle seguenti affermazioni non è corretta?</p> 	<p><b>a) La ruota D gira in senso antiorario.</b></p>	<p><b>b) La ruota C gira nello stesso senso della ruota F.</b></p>	<p><b>c) La ruota G gira in senso antiorario.</b></p>	<p><b>d) La ruota C gira nello stesso senso della ruota G.</b></p>																																																																																				
	<p><b>88)</b> Se ciascuna lettera presente nell'immagine vale quanto il doppio del numero situato immediatamente al di sopra di essa, quanto vale <math>k * d</math>?</p> <table border="1" data-bbox="318 793 828 914"><tr><td>1</td><td>2</td><td>3</td><td>4</td><td>5</td><td>6</td><td>7</td><td>8</td><td>9</td><td>10</td><td>11</td><td>12</td><td>13</td></tr><tr><td>a</td><td>b</td><td>c</td><td>d</td><td>e</td><td>f</td><td>g</td><td>h</td><td>i</td><td>j</td><td>k</td><td>l</td><td>m</td></tr><tr><td>14</td><td>15</td><td>16</td><td>17</td><td>18</td><td>19</td><td>20</td><td>21</td><td>22</td><td>23</td><td>24</td><td>25</td><td>26</td></tr><tr><td>n</td><td>o</td><td>p</td><td>q</td><td>r</td><td>s</td><td>t</td><td>u</td><td>v</td><td>w</td><td>x</td><td>y</td><td>z</td></tr></table>	1	2	3	4	5	6	7	8	9	10	11	12	13	a	b	c	d	e	f	g	h	i	j	k	l	m	14	15	16	17	18	19	20	21	22	23	24	25	26	n	o	p	q	r	s	t	u	v	w	x	y	z	<p><b>a) 172</b></p>	<p><b>b) 174</b></p>	<p><b>c) 178</b></p>	<p><b>d) 176</b></p>																																
1	2	3	4	5	6	7	8	9	10	11	12	13																																																																													
a	b	c	d	e	f	g	h	i	j	k	l	m																																																																													
14	15	16	17	18	19	20	21	22	23	24	25	26																																																																													
n	o	p	q	r	s	t	u	v	w	x	y	z																																																																													
	<p><b>89)</b> Completa correttamente il seguente schema numerico:</p> <table border="1" data-bbox="318 1000 629 1313"><tr><td>d</td><td>a</td><td>c</td><td>b</td><td>e</td><td>f</td></tr><tr><td>f</td><td>b</td><td></td><td>a</td><td>c</td><td>d</td></tr><tr><td>a</td><td>c</td><td></td><td>e</td><td>d</td><td>b</td></tr><tr><td></td><td>e</td><td>d</td><td>f</td><td>a</td><td>c</td></tr><tr><td>c</td><td>f</td><td>a</td><td>d</td><td>b</td><td>e</td></tr><tr><td>e</td><td>d</td><td>b</td><td>c</td><td>f</td><td>a</td></tr></table>	d	a	c	b	e	f	f	b		a	c	d	a	c		e	d	b		e	d	f	a	c	c	f	a	d	b	e	e	d	b	c	f	a	<p><b>a)</b></p> <table border="1" data-bbox="922 946 1075 1149"><tr><td></td><td></td><td></td></tr><tr><td></td><td></td><td>e</td></tr><tr><td></td><td></td><td>f</td></tr><tr><td>b</td><td></td><td></td></tr></table>						e			f	b			<p><b>b)</b></p> <table border="1" data-bbox="1247 946 1400 1149"><tr><td></td><td></td><td></td></tr><tr><td></td><td></td><td>a</td></tr><tr><td></td><td></td><td>f</td></tr><tr><td>b</td><td></td><td></td></tr></table>						a			f	b			<p><b>c)</b></p> <table border="1" data-bbox="1563 946 1718 1149"><tr><td></td><td></td><td></td></tr><tr><td></td><td></td><td>e</td></tr><tr><td></td><td></td><td>d</td></tr><tr><td>b</td><td></td><td></td></tr></table>						e			d	b			<p><b>d)</b></p> <table border="1" data-bbox="1890 946 2042 1149"><tr><td></td><td></td><td></td></tr><tr><td></td><td></td><td>b</td></tr><tr><td></td><td></td><td>f</td></tr><tr><td>b</td><td></td><td></td></tr></table>						b			f	b		
d	a	c	b	e	f																																																																																				
f	b		a	c	d																																																																																				
a	c		e	d	b																																																																																				
	e	d	f	a	c																																																																																				
c	f	a	d	b	e																																																																																				
e	d	b	c	f	a																																																																																				
		e																																																																																							
		f																																																																																							
b																																																																																									
		a																																																																																							
		f																																																																																							
b																																																																																									
		e																																																																																							
		d																																																																																							
b																																																																																									
		b																																																																																							
		f																																																																																							
b																																																																																									

AA.FF. 2025 – QUESTIONARIO TIPO 2



90)

Completa correttamente il seguente schema  
numerico:

d	a	c	b	e	f
f	b	e	a	c	d
a	c		e	d	b
	e	d	f	a	c
c	f	a	d	b	e
	d	b	c	f	a

a)

		f
b		
e		

b)

		f
b		
d		

c)

		b
b		
e		

d)

		f
d		
e		

## **AA.FF. 2025 – QUESTIONARIO TIPO 2**

